



SAMSUN
İL MİLLÎ EĞİTİM
MÜDÜRLÜĞÜ

OCAK - 2020

7. SINIF SOSYAL BİLGİLER

OCAK AYI ODAK GRUBU TESTİ

Bu testteki soruları hazırlayan öğretmenler :

Abdulsamet SAĞLAM - Yenice Mustafa Çakır Ortaokulu
Bahar BİRİNCİ - Belediyeveleri İmam Hatip Ortaokulu
Filiz GÜNAYDIN - Hasköy Ortaokulu
Mesut SÖNMEZ - Fatih Temiz Ortaokulu
Nurhan ORHAN - Emrullah Efendi İmam Hatip Ortaokulu
Özgür KAYA - Çınarlık Ortaokulu
Yunus ERUSTA - Canik İmam Hatip Ortaokulu



SAMSUN
ÖLÇME
DEĞERLENDİRME
MERKEZİ

1. Bu yaz tatilinde ailemle beraber Çınarlı Deresi ile sulanan vadi boyunca yükselen Tekkeköy Mağaralarını gezdik. Buradaki büyüklü küçüklü oyuk ve mağaralar 60.000 yıllık tarihe sahip. Yapılan araştırmalar sonucunda Delikli Kaya'ya doğru çıkan basamakların Frig Kalesi olduğu anlaşılmış. Haberleşme amacıyla da kullanıldığı düşünülen bu uç kalenin bulunduğu vadi de Hitit Yolu tespit edilmiş. Taş yontma yöntemiyle elde ettikleri ok ve mızrak uçları ile baltalar, kesici ve kazıyıcı gibi tarihi nesnelere de Müze Evi'ni gezdiğimizde gördük. Gezimiz çok heyecan vericiydi.

Metinden hareketle aşağıda verilen çıkarımlardan sırasıyla doğru olanlar için işareti, yanlış olanlar için de işareti kullanılırsa, hangi seçenek doğru olur?

- İlk yerleşim yerleri su kaynaklarına yakındır.
- Yerleşim yerleri farklı medeniyetlere ev sahipliği yapmıştır.
- İnsanlar tohumları toplayarak ekmeye başlamışlardır.
- İhtiyaçlarını gerçekleştirmek için doğal ortamı değiştirmişlerdir.
- Dayanıklı silahlar yapabilmek için madeni işlemişlerdir.

A)


B)

C)

D)

2. Beşeri ve doğal faktörler nüfusun dağılımını etkilemektedir.

Aşağıdakilerden hangisi nüfusun dağılımını etkileyen beşeri faktörlerden biri değildir?

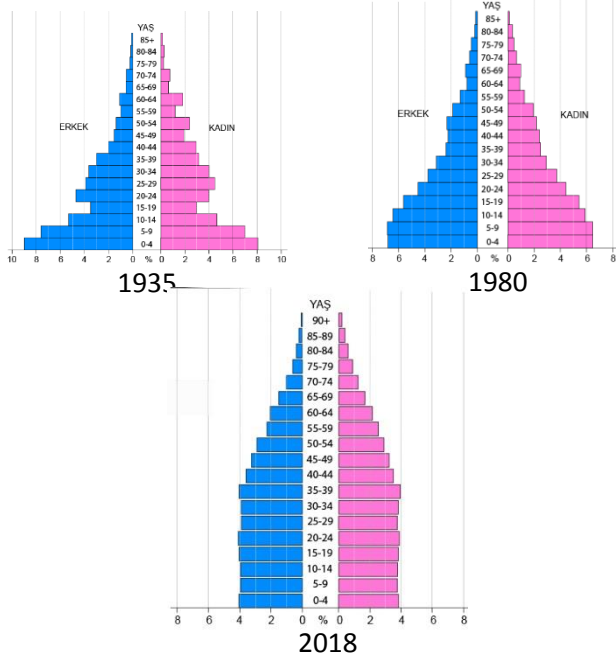


3. İlk Çağ'da Fırat ve Dicle Nehirleri arasında kalan bölgeye "iki nehir arası" anlamına gelen Mezopotamya adı verilmiştir. İkliminin uygun, topraklarının verimli olması ve göç yolları üzerinde yer alması nedeniyle Mezopotamya'da pek çok uygarlık kurulmuştur. Sümerler, Babilliler ve Asurlular burada kurulan uygarlıklardandır.

Metinde verilen bilgilere göre bu uygarlıkların Mezopotamya'da kurulmasında etkili olan nedenlerden biri değildir?

- A) Su kaynaklarının olması
- B) İklim şartlarının uygunluğu
- C) Ticaret yollarının geçmesi
- D) Verimli tarım alanlarının olması

4. Aşağıda Türkiye'nin 1935-1980-2017 yıllarına ait nüfus piramitleri verilmiştir.



Yukarıdaki nüfus piramitlerinden hareketle ülkemizin nüfus özellikleri ile ilgili olarak aşağıdakilerden hangisi söylenemez?

- A) 1935 yılından 2018 yılına kadar yaşlı nüfus sürekli azalmıştır.
- B) 1980 yılında 0-4 yaş arası nüfus, 1935 yılına göre daha düşüktür.
- C) Yetişkin nüfus sayısının en yüksek olduğu grafik 2018 yılına aittir.
- D) Bebek sayısının en yüksek olduğu grafik 1935 yılına aittir.

5. Tabloda 2013-2017 yılları arasında Türkiye nüfusunun cinsiyete göre dağılımı verilmiştir.

Yıl	Toplam	Erkek	Kadın
2017	80.810.525	40.535.135	40.275.390
2016	79.814.871	40.043.650	39.771.221
2015	78.741.053	39.511.191	39.229.862
2014	77.695.904	38.984.302	38.711.602
2013	76.667.864	38.473.360	38.194.504

TÜİK

Tablodaki bilgilerden yararlanılarak aşağıdaki hangisine ulaşamayız?

- A) Nüfus artış oranı
- B) Kadın-erkek oranı
- C) Toplam nüfus
- D) Genç nüfus oranı

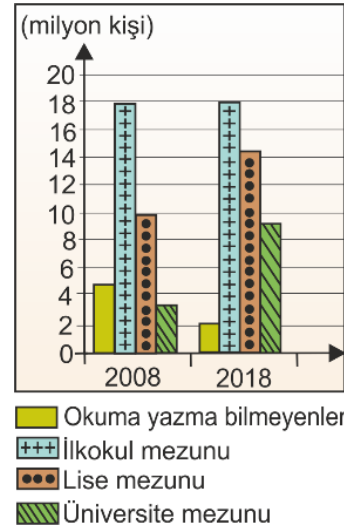
6. Aşağıdaki haritada ülkemizin yoğun nüfuslu bazı bölgeleri taranarak verilmiştir.



Haritada taranan yerlerin yoğun nüfuslanmasında etkili olan faktörler hangi seçenekte doğru olarak eşleştirilmiştir?

- | <u>1</u> | <u>2</u> | <u>3</u> | <u>4</u> |
|----------------|------------|-------------|------------|
| A) Tarım | Sanayi | Turizm | Madencilik |
| B) Sanayi | Ticaret | Turizm | Tarım |
| C) Hayvancılık | Madencilik | Ticaret | Sanayi |
| D) Sanayi | Ticaret | Hayvancılık | Tarım |

7. Aşağıdaki 2008-2018 yıllarına ait Türkiye nüfusunun eğitim durumunu gösteren grafik verilmiştir.

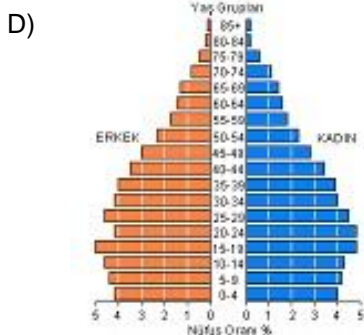
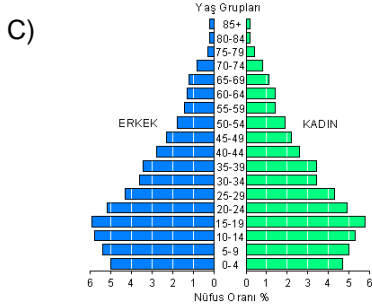
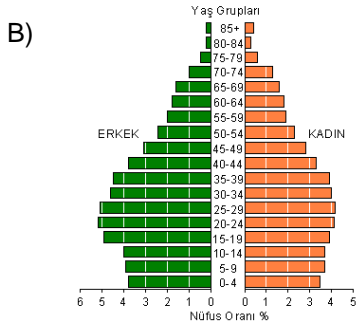
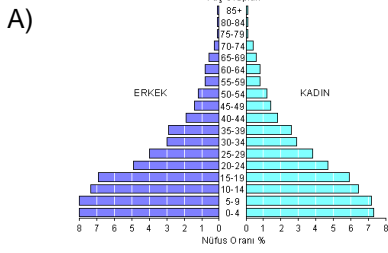


Grafikten yararlanılarak aşağıdakilerden hangisine ulaşamaz?

- A) Üniversite mezun sayısı artmıştır.
- B) Okuma yazma bilmeyenlerin sayısında düşüş olmuştur.
- C) En fazla ilkokul mezunu bulunmaktadır.
- D) En az artış lise mezunu sayısında yaşanmıştır.

8. Bir ülke ya da bölgenin nüfusunun yaş gruplarına ve cinsiyete göre dağılımını gösteren şekillere **nüfus piramitleri** denir. Gelişmemiş ülke ve bölgelerin nüfus piramidinde genç nüfusun fazla yaşlı nüfusun az, gelişmiş olanlarda ise yaşlı nüfusun fazla olduğu görülür.

Buna göre aşağıda verilen nüfus piramitleri incelendiğinde hangi piramidin diğerlerine göre **daha az** gelişmiş bir ülkeye ait olduğunu söyleyebiliriz?



9. **Oktay SİNANOĞLU**

Babası Nüzhet Haşim Sinanoğlu'nun Türkiye Başkonsolosluğunda görev yapmakta olduğu İtalya'nın Bari şehrinde doğdu. II. Dünya Savaşı'nın başlaması üzerine İtalya'dan ailesiyle Türkiye'ye dönmeye mecbur kaldı. 1956'da Amerika Birleşik Devletleri'nde, Berkeley'deki Kaliforniya Üniversitesi'nin Kimya Mühendisliği'ni başarıyla bitirdi. Ertesi sene yüksek lisansını tamamladı (1957) ve Sloan Ödülü'nü kazandı. Doçentlik tezini tamamlamasının (1958-1959) ardından Berkeley'de kuramsal kimya alanında doktorasını tamamladı. 1960'ta Yale Üniversitesi'nde öğretim üyesi oldu. 1 Temmuz 1963 tarihinde kimya alanında tam profesörlük unvanı alarak, 20. yüzyılda Yale Üniversitesi'nde "tam profesörlük" unvanını en genç yaşta kazanan öğretim üyesi olduğu açıklandı.

Yukarıda verilen bilgilere bakarak

- I- İtalya'dan göç etmesinde eğitim etkili olmuştur.
- II- Belirli dönemlerde hem zorunlu hem de gönüllü göç etmek zorunda kalmıştır.
- III- Amerika'ya gitmesi beyin göçüne örnektir.

yargılarından hangilerine ulaşılabilir?

- A) I ve II
- B) I ve III
- C) II ve III
- D) I, II, III

10. Göçün çeşitli sosyal, ekonomik ve kültürel sonuçlar vardır. Göç olgusu göç alan yerleri, göçte aktif olarak katılan bireyleri ve göç veren yerleri farklı biçimlerde etkiler. Göç alan yerlerde etkisi, yerleşim alanlarının büyümesi ile düzenli ya da düzensiz bir kentleşme meydana gelmesidir. Özellikle düzensiz kentleşme, gecekondulaşma altyapı yetersizliği, çevre kirliliği ve trafik sorunları gibi olumsuzlukları ortaya çıkarabilir. Eğitim, sağlık ve belediyecilik hizmetlerinde yetersizlikler görülebilir. Göçte bağlı olarak hızlı nüfus artışı yaşanan kentlerde işsizlik sorununa rastlanabilir.

Parçaya göre göç sonuçlarından hangisine **ulaşamaz**?

- A) Çarpık kentleşme
- B) Çevre kirliliği
- C) Alt yapı sıkıntısı
- D) Üretimin azalması

11. Ben Çayeli'nde yaşıyorum. Şiddetli yağıştan sonra meydana gelen heyelan çay bahçelerimize zarar verdi. Bu yüzden üretim yapamadık ve İzmit'e göç ettik. Babam burada otomotiv sanayisinde çalışmaya başladı.

Verilen metine göre; aşağıdakilerden hangisi yanlıştır?

- A) Ülke içinde yapılmış olan bu göç kırdan kente doğrudur.
B) Mevsimlik göç olarak da adlandırılan geçici göçtür.
C) Doğal nedenlerden dolayı yaşadıkları yeri terk etmişlerdir.
D) İş bulmak amacıyla yapılmış ekonomik nedenli bir göçtür.

12.



Avustralya'da orman yangınlarında 'göç' riski

Avustralya, ([DHA](#))- Avustralya'da orman yangınları hayatı olumsuz etkilemeye devam ediyor. Yangınlar nedeniyle kumsallara sığınan yaklaşık 4 bin kişinin tahliyesi için Avustralya Deniz Kuvvetlerine ait 2 savaş gemisi Victoria eyaletinin güneydoğu sahillerine gönderildi. Ülkenin güneydoğusundaki çok sayıda bölgede mahsur kalanlar, yangınlardan kaçmaya çalışıyor.

Metinde verilen internet haberine göre, insanların yaptığı göç aşağıdakilerden hangisine örnek olarak verilebilir?

- A) Zorunlu göç
B) Mevsimlik göç
C) Beyin göçü
D) Dış göç

13. Samsun'un Bafra ilçesine bağlı Sarıköy'ünde yaşayan Sultan ve Hasan çifti evlendikten bir süre sonra köyde geçimini sağlayamamışlardır. Ekonomik sıkıntılar da yaşayan Hasan Bey, Bafra'da yeni açılacak şeker fabrikasına işçi alınacağını öğrenince ailesi ile birlikte Bafra'ya göç etmişlerdir. Fabrikada uzun yıllarca çalışan Hasan Bey'in Ali, Ahmet ve Ayşe adında 3 tane çocuğu da olmuştur. Hasan Bey, çocuklarının eğitim hayatına önem verip, başarılı olmaları için her zaman destek olmuştur.

Ayşe hedefi olan Samsun Fen Lisesini kazanmış ve okulun yurduna yerleşmiştir. Ahmet de İstanbul Marmara Üniversitesi bilgisayar öğretmenliği 3.sınıf öğrencisidir. En büyük çocuğu olan Ali ise otomotiv mühendisliğini bitirdikten sonra Japonya'da ünlü bir araba firmasında mühendis olarak çalışmaya başlamıştır.

Yukarıda yer alan metinde hangi göç türünden bahsedilmemiştir?

- A) Beyin göçü
B) Kalıcı göç
C) Dış göç
D) Mevsimlik göç

14.

Madde 23 – Herkes, yerleşme ve seyahat hürriyetine sahiptir. Yerleşme hürriyeti, suç işlenmesini önlemek, sosyal ve ekonomik gelişmeyi sağlamak, sağlıklı ve düzenli kentleşmeyi gerçekleştirmek ve kamu mallarını korumak; Seyahat hürriyeti, suç soruşturma ve kovuşturması sebebiyle ve suç işlenmesini önlemek; Amaçlarıyla kanunla sınırlanabilir. Vatandaşın yurt dışına çıkma hürriyeti, vatandaşlık ödevi ya da ceza soruşturması veya kovuşturması sebebiyle sınırlanabilir.

Aşağıdaki örneklerden hangisi anayasamızda yer alan yerleşme ve seyahat hürriyeti maddesini destekler niteliktedir?

- A) Karantina bölgesine seyahat etmek,
B) Sit alanlarına izinsiz tesis yapmak,
C) Tarihi mekânlara gezi düzenlemek,
D) Ruhsat almadan inşaat yapmak,

15. **ALP:** Ailemle yurt dışına tatile gitmek için havaalanında pasaport kuyruğunda beklerken önümüzdeki beyefendi tüm belgelerinin tam olmasına rağmen görevliler tarafından uçağa alınmadı. Çünkü hakkında mahkeme tarafından verilmiş yurt dışına çıkma yasağı varmış.

KEMAL: Apartmanımızın yanındaki bina, belediyeden izin alınmadan yapıldığı için sakinleri tahliye edildikten sonra belediye ekipleri tarafından iş makinalarıyla yıkıldı.

Yukarıda öğrencilerin verdiği örnekler yerleşme ve seyahat özgürlüğünün kısıtlandığı durumlardan hangisinin kapsamında ele alınabilir?

ALP**KEMAL**

- | | |
|--|---------------------------------------|
| A) Ceza soruşturması ve kovuşturması gereğince | Düzenli kentleşmeyi gerçekleştirmek |
| B) Sosyal ve ekonomik gelişmeyi sağlamak | Kamu mallarını korumak |
| C) Suç işlenmesini önlemek | Düzenli kentleşmeyi gerçekleştirmek |
| D) Ceza soruşturması ve kovuşturması gereğince | Sosyal ve ekonomik gelişmeyi sağlamak |

16. Yerleşme ve seyahat özgürlüğünün kısıtlanması ile ilgili olarak öğrenciler tarafından aşağıdaki örnekler verilmiştir.

BAHAR : Kolombiya, ebola virüsünün etkili olduğu 2014 yılında Batı Afrika ülkelerinden gelecek yolcuların ülkeye girişine yasaklama getirdi.

ÖZGÜR: Adapazarı Belediyesi, yapılan uyarılara rağmen kanunlara aykırı olarak başlanan, 5 bina inşaatında yıkım çalışmalarına başladı.

SAMET: İzmir'de, tasarladığı halılarla 11 ülkeye ihracat yapan genç kadın girişimci, Türkiye ile vize problemi yaşanan ABD'ye kendisi giremeyince, halıları almak isteyen müşteri Türkiye'ye geldi ve halıları satın aldı.

FİLİZ: Yaşanan çatışmalar süresince Ceylanpınar'da birçok eve mermi isabet edince sınıra yakın mahalleler boşaltıldı ve yüzlerce aile ilçeden ayrılmak zorunda kaldı.

Öğrencilerin verdiği örnekler aşağıdakilerin hangisinde doğru verilmiştir?

A)	Yerleşme Hürriyeti	Seyahat Hürriyeti
BAHAR	X	
ÖZGÜR	X	
SAMET		X
FİLİZ		X

B)	Yerleşme Hürriyeti	Seyahat Hürriyeti
BAHAR		X
ÖZGÜR	X	
SAMET		X
FİLİZ	X	

C)	Yerleşme Hürriyeti	Seyahat Hürriyeti
BAHAR	X	
ÖZGÜR		X
SAMET	X	
FİLİZ		X

D)	Yerleşme Hürriyeti	Seyahat Hürriyeti
BAHAR		X
ÖZGÜR		X
SAMET	X	
FİLİZ	X	

TESTİ HAZIRLAYANLAR: Abdulsamet SAĞLAM, Bahar BİRİNCİ, Filiz GÜNAYDIN, Mesut SÖNMEZ, Nurhan ORHAN, Özgür KAYA, Yunus ERUSTA



CEVAP ANAHTARI

1. C
2. B
3. D
4. B
5. D
6. B
7. D
8. A
9. C
10. D
11. B
12. A
13. D
14. C
15. A
16. B

1. Aşağıdaki görselde Cilalı Taş Devri'nde insanların yaşayış şekilleri tasvir edilmiştir.



Görselden yararlanılarak aşağıdaki yargılardan hangisine ulaşılmaz?

- A) Hayvanlar evcilleştirilmiştir.
B) Yerleşik hayata geçilmiştir.
C) Tarım ve üretim yapılmaktadır.
D) Ticaret hayatı gelişmiştir.

2.



Konut ihtiyacı olan, düşük gelirli insanların buldukları yerlerde, çok kısa bir süre içinde kendi imkânlarıyla yaptıkları derme-çatma evlere gecekondular denilmektedir. Yukarıda gecekondulaşmanın yaşandığı bir mahallenin görseli verilmiştir.

Buna göre aşağıdakilerden hangisi gecekondulaşmanın bu mahallede ortaya çıkarabileceği sonuçlardan biri olamaz?

- A) İş gücünün azalması
B) Hızlı nüfus artışının yaşanması
C) Altyapı sorunlarının ortaya çıkması
D) Eğitim ve sağlık işlerinin aksaması

3. Tabloda yerleşmeyi etkileyen doğal ve beşerî özellikleri verilmiştir.

	DOĞAL	BEŞERİ
Hatay: Akdeniz iklimi görülür ve ülkemizin en verimli ovalarından Amik Ovası'na sahiptir.		
Ardahan: Yükseltisi fazla ve engebelidir. Kışlar çok sert geçer.		
Ankara: Eğitim ve kültür şehridir. Ticaret ve sanayi gelişmiştir.		
Hakkâri: Sanayi faaliyetleri gelişmemiştir.		
İzmit: Sanayi faaliyetleri oldukça gelişmiştir. İşlek bir limana sahiptir.		

Tabloya göre yapılan açıklamaların hangi faktörler ile ilgili olduğu aşağıdakilerden hangisinde doğru eşleştirilmiştir?

A)

	Doğal	Beşeri
Hatay	X	
Ardahan	X	
Ankara		X
Hakkâri		X
Kocaeli	X	

B)

	Doğal	Beşeri
Hatay	X	
Ardahan	X	
Ankara		X
Hakkâri		X
Kocaeli		X

C)

	Doğal	Beşeri
Hatay		X
Ardahan	X	
Ankara		X
Hakkâri		X
Kocaeli		X

D)

	Doğal	Beşeri
Hatay		X
Ardahan		X
Ankara	X	
Hakkâri	X	
Kocaeli		X

4. Geçmişten günümüze insanların yerleşim yeri seçmelerinde etkili olan faktörlerden biri de iklimdir.



I



II



III



IV

Görselleri verilen yerlerin hangileri yerleşmeyi etkileyen doğal faktörlerden iklim ile ilişkilendirilebilir?

- A) Yalnız I
B) I ve III
C) II ve IV
D) I, III ve IV

5. İlin ekonomisi geniş ölçüde tarıma dayalıdır. Faal nüfusun % 65 kadarı tarım sektöründe çalışır. Bafra ve Çarşamba Türkiye'nin verimli ovalarındandır. Samsun ilinin iklimi ve bitki örtüsü hayvancılık için çok müsaittir. Orman bakımından zengin olan illerimizden biridir. Kara, hava ve deniz yolları sebebiyle ticaret hareketlidir. Sanayi hızla gelişmektedir. Bilhassa 1970'ten sonra sanayi sektöründeki gelişmenin hızı oldukça artmıştır. Samsun ili kara, deniz, hava ve demiryolu ulaşımında mühim bir kavşak noktasıdır.

Samsun ili ile ilgili verilen bilgilere göre aşağıdakilerden hangisi söylenemez?

- A) Nüfusunun büyük bölümü tarım ile uğraşmaktadır.
B) Samsun ilinin nüfuslanmasında birçok etmen vardır.
C) Sanayinin gelişmesi yerleşmede en önemli etkidir.
D) Samsun ili ulaşım merkezi özelliği taşımaktadır.

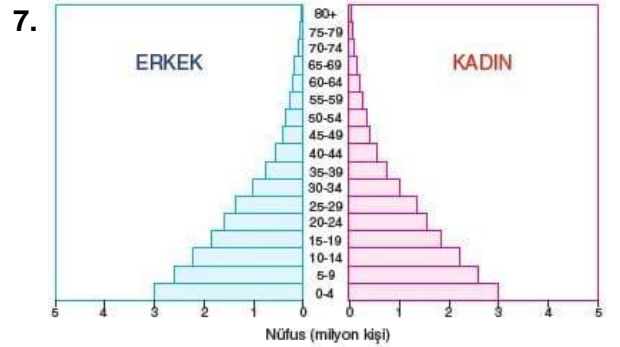
6. Aşağıda Samsun ilinin 2008-2018 yılları arasında bazı nüfus özelliklerini gösteren tablo verilmiştir.

Yıl	Samsun Nüfusu	Erkek	Kadın	Artış Hızı
2018	1.335.716	662.086	673.630	% 1.73
2017	1.312.990	649.524	663.466	% 1.32
2016	1.295.927	640.699	655.228	% 1.25
2015	1.279.884	632.014	647.870	% 0.78
2014	1.269.989	627.296	642.693	% 0.65
2013	1.261.810	623.435	638.375	% 0.81
2012	1.251.722	617.095	634.627	% -0.00
2011	1.251.729	617.701	634.028	% -0.08
2010	1.252.693	620.015	632.678	% 0.21
2009	1.250.076	618.849	631.227	% 1.33
2008	1.233.677	607.501	626.176	% 0.38

www.tuik.gov.tr

Tabloya bakıldığında aşağıdakilerden hangisi söylenemez?

- A) 2011-2012 yılları arasında erkek nüfusunda düşüş vardır.
B) Her yıl kadın nüfusu erkek nüfusundan fazla çıkmıştır.
C) Nüfustaki artış miktarı en fazla 2017-2018 yılları arasında görülmüştür.
D) Samsun ili nüfusu her yıl artış göstermiştir.



Yukarıdaki nüfus piramidinden yararlanarak yaklaşık;

- I. Nüfusun okur- yazarlık durumu
II. Çocuk yaştaki nüfus miktarı
III. Erkek ve kadın sayıları
IV. Nüfusun yaş gruplarına göre dağılımı

bilgilerinden hangilerine ulaşılabilir?

- A) I ve II
B) II ve III
C) II, III ve IV
D) I, II, III ve IV

- 12. Furkan:** Makine mühendisliği bölümünden mezun olduktan sonra yüksek lisans yapmak için Almanya'ya gittim.
- Defne:** Dedemin hastalığı nedeniyle köydeki evimizi bırakıp şehir merkezine taşındık.
- Yiğit:** Yaz tatilinde ailemle birlikte Samsun'a fındık toplamaya gittik
- Kaan:** Sel ve heyelan tehlikesi nedeniyle köyümüz boşaltıldı ve şehir merkezine taşındık.

Yukarıda bazı öğrenciler göç etme sebeplerini anlatmışlardır. Bu göçlerin sebepleri ile göçlerin çeşitleri aşağıdaki tabloda eşleştirilmek isteniyor.

	1 Dış	2 Kalıcı	3 Mevsimlik	4 Zorunlu
A Ekonomik				
B Sağlık				
C Güvenlik				
D Eğitim				

Öğrencilerin tablodaki bilgileri doğru eşleştirmesi aşağıdaki seçeneklerden hangisinde verilmiştir?

	<u>Furkan</u>	<u>Defne</u>	<u>Yiğit</u>	<u>Kaan</u>
A)	D1	B2	C3	A4
B)	D1	B2	A3	C4
C)	D2	C4	A3	B1
D)	D3	A2	B1	C4

- 13. Metinde Van'da yaşanan depremden sonra yayınlanan bir gazete haberi verilmiştir.**

Deprem nedeniyle 72 bin kişi Van'dan göç etti

Van'da 2011 yılında meydana gelen depremin ardından kentteki nüfus 72 bin 273 kişi azaldı. Başbakanlık Afet ve Acil Durum Yönetimi Başkanlığı'nın hazırladığı rapora göre, kentten göç edenler bir önceki yıla oranla yüzde 211 arttı.

Bu haberden yararlanılarak aşağıdaki yargılardan hangisine ulaşılabılır?

- A) Van depremi ülkemizde yaşanan en şiddetli deprem olmuştur.
- B) Depremden sonra Van'ın nüfusu 72 bin 273'e düşmüştür.
- C) İnsanlar doğal afetler nedeniyle Van'dan göç etmişlerdir.
- D) Depremden önce Van'daki nüfus artış oranı yüzde 211'dir.

- 14. Uzun yıllardır ailesi ile birlikte Bulgaristan'ın Varna şehrinde yaşayan İslam Bey, Bulgar çetelerinin saldırısı sonucu annesini ve babasını kaybetmiştir. Bu olaydan kurtulan İslam Bey ve erkek kardeşi evlerini, topraklarını geride bırakarak, tehlikeli yolculuklardan sonra 1937 yılında Türkiye'ye kaçabilmişlerdir. Türkiye de hiçbir akrabası olmayan İslam Bey Bulgaristan'dan arkadaşının yanına Kayseri'ye gitmiştir. Kayseri'nin Pınarbaşı ilçesi halkı İslam Bey'in yaşadıklarını öğrenir öğrenmez ona ev ve arazi vermişlerdir.**

Verilen olay göz önüne alındığında;

- I) Mübadele
II) Terör olayı ve baskılar
III) Savaş

gibi nedenlerden hangileri İslam Bey'in göç etmesinin sebepleridir?

- A) Yalnız I
B) Yalnız II
C) I ve II
D) II ve III

15. Samsun'da yaşayan Mehmet Genç, 8 yıl önce ilk kez çıktığı yurt dışı gezisinden sonra Dünyayı keşfetme tutkusunun peşinden giderek hem 70 ülke gezdi. Aynı zamanda sosyal medya fenomeni haline geldi.

Mehmet Genç'in hayatı 2010 yılında İstanbul'da çalıştığı bir bilişim firmasının kendisini eğitim için iki haftalığına Tayvan'a göndermesiyle değişti. İlk yurt dışı seyahatinden sonra artık ofis ortamında çalışamayacağına, yeterli maddi imkânı olmamasına rağmen kendisine "dünyayı gezme" hedefi koyan Mehmet Genç, işten ayrıldıktan sonra yola koyuldu. Genç, 2014 yılında Latin Amerika gezisi sonrası tek yön bilet alarak çıktığı yolculuğunu 2 yıl 270 günde tamamladı. Anılarını "Rotasız Seyyah Yol Hikâyeleri " ve "Rotasız Seyyah Yol Hikâyeleri 2 " adlı iki kitap da toplayan 36 yaşındaki Mehmet Genç, yaptığı açıklamada, 8 yılda 70 ülkeye seyahat ettiğini söyledi.

Verilen metinde anayasamızdaki

- I- Yerleşme ve Seyahat hürriyeti
- II- Düşüncelerini ifade etme hürriyeti
- III- Özel hayatın gizliliği

hak ve özgürlüklerin hangilerinden bahsedilmiştir?

- A) Yalnız I
- B) I ve II
- C) II ve III
- D) I,II ve III

16. Türkiye Cumhuriyeti Anayasası MADDE 23
V. Yerleşme ve Seyahat Hürriyeti

Herkes, yerleşme ve seyahat hürriyetine sahiptir.
Yerleşme hürriyeti, suç işlenmesini önlemek, sosyal ve ekonomik gelişmeyi sağlamak, sağlıklı ve düzenli kentleşmeyi gerçekleştirmek ve kamu mallarını korumak;
Seyahat hürriyeti, suç soruşturma ve kovuşturması sebebiyle ve suç işlenmesini önlemek; Amaçlarıyla kanunla sınırlanabilir. (Değişik: 3.10.2001-4709/8 Md.) Vatandaşın yurt dışına çıkma hürriyeti, vatandaşlık ödevi ya da ceza soruşturması veya kovuşturması sebebiyle sınırlanabilir. (Değişik: 7.5.2010 5982/3) Vatandaşın yurt dışına çıkma hürriyeti, ancak suç soruşturması veya kovuşturması sebebiyle hâkim kararına bağlı olarak sınırlanabilir. Vatandaş sınır dışı edilemez ve yurda girme hakkından yoksun bırakılamaz.

Anayasa maddesi dikkate alındığında;

- I. Kamu mallarını ve tarihi eserleri korumaya yönelik önlemler alınması
- II. Bulaşıcı hastalıkları önleme amacıyla karantina alanlarının oluşturulması
- II. Kolluk kuvvetlerince güvenliği sağlamaya yönelik tedbirler alınması

gibi durumlarından hangilerinde yerleşme ve seyahat hürriyeti kısıtlanabilir?

- A) I ve II
- B) I ve III
- C) II ve III
- D) I, II, III



CEVAP ANAHTARI

1. D
2. A
3. B
4. B
5. C
6. D
7. C
8. A
9. D
10. C
11. B
12. B
13. C
14. B
15. A
16. D